



वेदांत विद्या विहार
ઈસનપુર, અમદાવાદ.

ધોરણ : ૨	યુનિટ ટેસ્ટ : ૪	વિષય : કમ્પ્યુટર	તારીખ : ૨૮-૦૧-૨૦૨૦	માર્ક : ૪૦
----------	-----------------	------------------	--------------------	------------

પ્ર-૧ કૌંસમાં આપેલા શબ્દોની મદદથી ખાલી જગ્યા પૂરો. (૧૦)

[કર્સર લીટી, એન્ટર કી, કેપિટલ અક્ષર, સીપીયુ, માઉસ પોઈન્ટર, સંગીત, ઓફિસ, કેપિટલ અક્ષર, માઉસ, ક્લિક]

૧. નવી લીટી પર જવા માટે એન્ટર કીનો ઉપયોગ થાય છે.
૨. સ્ક્રીન પર દેખાતી નાની ઝબૂકતી લીટીને કર્સર કહે છે.
૩. શિફ્ટ કી નો ઉપયોગ કેપિટલ અક્ષર ટાઈપ કરવા થાય છે.
૪. સીપીયુ ને કમ્પ્યુટર નું મગજ કહે છે.
૫. કેપ્સ લોક કી નો ઉપયોગ કેપિટલ અક્ષર થાય છે.
૬. માઉસ પર બે કે ત્રણ બટન હોય છે.
૭. મોનિટર પરના એરોને માઉસ પોઈન્ટર કહે છે.
૮. માઉસ બટન ને દબાવીને છોડી દેવાની ક્રિયાને ક્લિક કહે છે.
૯. કમ્પ્યુટર નો ઉપયોગ ઓફિસ માં થાય છે.
૧૦. સ્પીકરનો ઉપયોગ સંગીત સાંભળવા થાય છે.

પ્ર-૨ કૌંસમાં આપેલા વિકલ્પો માંથી કોઈ એક વિકલ્પ પસંદ કરી ખાલી જગ્યા પૂરો (૧૦)

૧. એરો ધરાવતી કી ને કર્સર કી કહે છે. (કર્સર કી / એન્ટર કી)
૨. જ્યારે માઉસ પેડ પર માઉસને ઉપર તરફ સરકાવશો ત્યારે સ્ક્રીન પર એરો પણ ઉપર જાય છે (ઉપર / નીચે)
૩. કેપ્સ લોક કી નો ઉપયોગ કેપિટલ અક્ષર થાય છે. (જગ્યા છોડવા / કેપિટલ અક્ષર ટાઈપ કરવા)
૪. સ્ક્રીન પર નાનકડું તીર ને માઉસ પોઈન્ટર કહેવાય છે. (માઉસ પોઈન્ટર / તીર)
૫. બેકસ્પેસ કી નો ઉપયોગ ભુસવા માટે થાય છે. (ભુસવા / લખવા)
૬. શિફ્ટ કી કીબોર્ડ પર સૌથી લાંબી હોય છે. (લાંબી / ટૂંકી)
૭. ૦ થી ૯ સુધી ના બટન ને નંબર કી કહેવાય છે. (નંબર કી / લેટર કી)
૮. માઉસ પર બે કે ત્રણ બટન આવેલા છે. (બે / બે કે ત્રણ)
૯. સીપીયુ ને કમ્પ્યુટર નું મગજ કહે છે. (મગજ / શરીર)
૧૦. સ્ક્રીન પર નાની ઝબૂકતી લીટી ને કર્સર કહેવાય છે. (કર્સર / માઉસ)











પ્ર-૩ વાક્ય ખરું હોય તો તેની સામે ખરાની નિશાની અને ખોટું હોય તો ખોટની નિશાની કરો. (૧૦)

૧. માઉસ પર એક જ બટન હોય છે.
૨. કમ્પ્યુટરનો ઉપયોગ ચલચિત્ર જોવા માટે થાય છે.
૩. કમ્પ્યુટરનો ઉપયોગ ઓફિસમાં થતો નથી.
૪. એન્ટર કી નો ઉપયોગ કેપિટલ અક્ષરો લખવા થાય છે.
૫. ૦ થી ૯ સુધી ની કી ને અક્ષર કી કહેવાય છે.
૬. શિફ્ટ બટન નો ઉપયોગ કેપિટલ અક્ષરો ટાઈપ કરવા થાય છે.
૭. અક્ષર કી A થી Z સુધી હોય છે.
૮. સ્પેસ બાર એ કીબોર્ડ ની સૌથી લાંબી કી હોય છે.
૯. શિફ્ટ કી અને કેપ્સ લોક કી નો ઉપયોગ કેપિટલ અક્ષરો ટાઈપ કરવા થાય છે.
૧૦. માઉસનું બટન દબાવીને તરત છોડી દેવાની ક્રિયા ને ક્લિક કહેવાય છે.

X
✓
X
X
X
✓
✓
✓
✓
✓

પ્ર-૪ કૌંસમાં આપેલા શબ્દોનો ઉપયોગ કરી ચિત્ર ના નામ લખો. (૧૦)


[સ્પીકર, માઉસ, સીપીયુ, મોનિટર, એન્ટર, કીબોર્ડ, પ્રિન્ટર, વૃક્ષ, વિમાન, સ્પેસબાર]

૧.  માઉસ
૨.  સ્પીકર
૩.  સીપીયુ
૪.  મોનિટર
૫.  એન્ટર
૬.  કીબોર્ડ
૭.  પ્રિન્ટર
૮.  વૃક્ષ
૯.  સ્પેસબાર
૧૦.  વિમાન




ધોરણ : 2	યુનિટ ટેસ્ટ : 4	વિષય : અંગ્રેજી	તારીખ : 31/1/2020	માર્ક : 40
----------	-----------------	-----------------	-------------------	------------

Q.1 (A) Identify the pictures and write the words. (05)

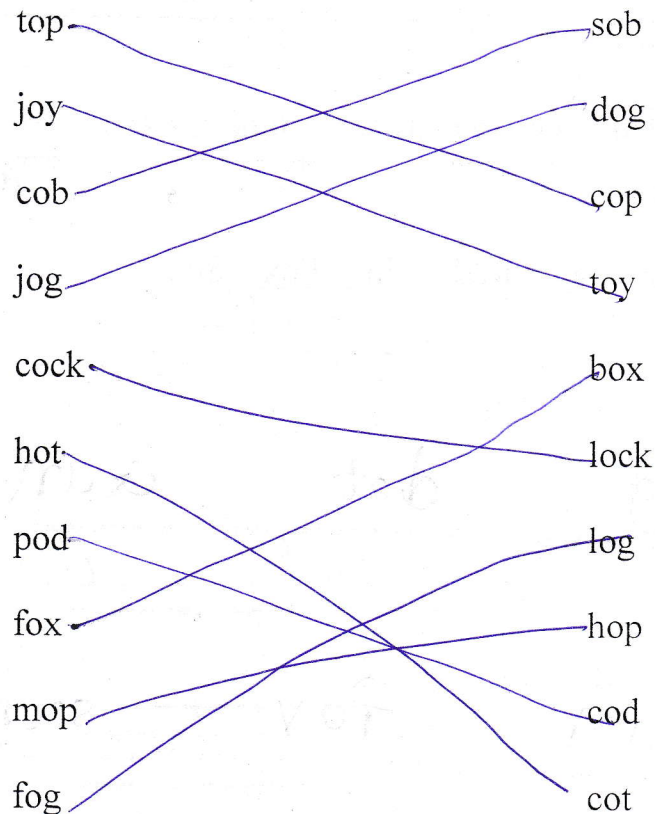


pod hot ox toy jog

Q.1 (B) Look at the picture and complete the words. (05)

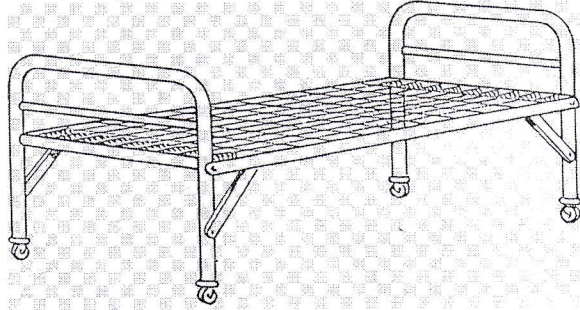

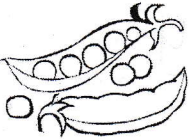
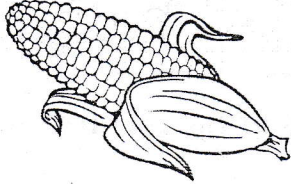



Q.2 (A) Match the rhyming words. (05)



Q.2 (B) Circle the right word.

(05)

	
<p>Cot Hot Dot Box Fox Ox</p>	
	
<p>Pod Cod Nod Mob Sob Cob</p>	
	
<p>Boy Joy Toy</p>	

Q.3 (A) Put the words in the right columns.

(05)

[Rat Jet Big Dot Gun Fan Red Tin Fox Sun]

a

e

i

o

u

rat

jet

big

dot

gun

fan

red






tin

fox

sun

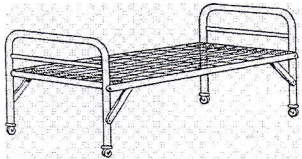



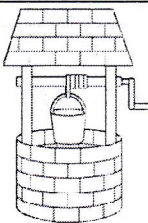
Q.3 (B) Unjumble the letters to make words.

(05)

				
u k e d	c k l o	o c k c	n c k e	o c r k
duck	lock	cock	neck	rock

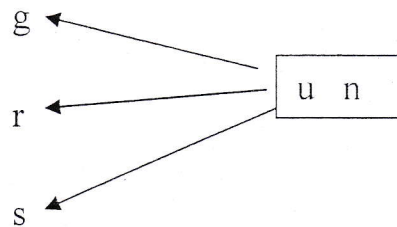
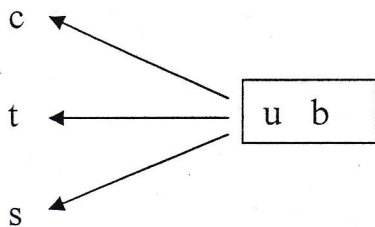
Q.4 (A) Choose the correct word and fill in the blanks. [This, That]

(05)

- (1)  This is a bed.
- (2) That is a pet cat. 
- (3)  This is a jet.
- (4) That is a tree. 
- (5)  This is a well.

Q.4 (B) Look say and write the correct word.

(02)



cub tub

gun run

sub

sun

Q.4 (C) Read trace and write the sentences.

(03)

(1) I hug my pup.

I hug my pup.

(2) The bus is near the hut.

The bus is near the hut.

(3) We had fun in the bus.

We had fun in the bus.



વેદાંત વિદ્યા વિહાર

ઇસનપુર, અમદાવાદ.

ધોરણ : ૨ - મી. રા. પી. ભટ્ટ

ધોરણ : ૨	યુનિટ ટેસ્ટ : ૪	વિષય : સામાન્ય જ્ઞાન	તારીખ : ૨૭-૦૧-૨૦૨૦	માર્ક : ૪૦
----------	-----------------	----------------------	--------------------	------------

પ્ર-૧ ખાલી જગ્યા પૂરો.

(૦૮)

- લેસના બચ્ચાંને પાકું કહેવાય.
- ઘેટું વાડા માં રહે છે.
- વાઘ ગાડ પડે છે.
- માટલું, કૂંડ, કોડિયું માટી માંથી બને છે.
- દિશાઓ ચાર છે. ખૂણાઓ ચાર છે.
- પૈડાવાળી ખુરશી દરદી ને લાવવા - લઈ જવા વપરાય છે.
- આપણે રસ્તાની ડાબી ચાલવું જોઈએ.
- પાકી કેરી મીઠી લાગે છે.

પ્ર-૨ યોગ્ય જોડકાં જોડો.

(૦૬)

- | [અ] | [બ] |
|-------------------------|-----------|
| ૧. લીંબુ | ગુફા |
| ૨. લીલો રંગ | કાપડ |
| ૩. ઊંચું પ્રાણી | મૂર્વ |
| ૪. સૂર્ય-ઊગ્રે | જિરાફ |
| ૫. ટી શર્ટ, પેન્ટ, ફોંક | ખોટું હોય |
| ૬. સિંહ | જાઓ |

પ્ર-૩ ખરાં - ખોટાં ની નિશાની કરો.

(૦૬)

- બકરીનાં બચ્ચાંને લવાકું કહેવાય.
- મધમાખી માળામાં રહે છે.
- ઘોડો હણ હણે છે.
- ઉનાળો ઠંડો હોય છે.
- શિક્ષક આપણને દવા આપે છે.
- રસ્તો ઓળંગતા ડાબી-જમણી બાજુ જોવું જોઈએ.

✓
X
✓
X
X
✓

પ્ર-૪ (અ) માગેલા આકારો ઢોરી તેમાં મનપસંદ રંગ પૂરો.

(૦૪)

૧. ચોરસ




૨. ત્રિકોણ



૩. લંબગોળ



૪. લંબચોરસ



બ. આપેલી વસ્તુઓના સ્વાદ જણાવો.

(૦૪)

૧. કરેલું - કડવું


૩. હળદર - તૂરી

૨. મીઠું - ખાઈ

૪. આમલી - ખાઈ

ક. જુદું ચિત્ર શોધી તેના પર ખોટાની નિશાની કરો.

(૦૪)




પ્ર-૫ (અ) સાચા ઉત્તર સામે ખરા ખોટાની નિશાની કરો.

(૦૪)

૧. બે માંથી કઠણ કયું છે?	લોખંડ	<input checked="" type="checkbox"/>	લાકડું	<input type="checkbox"/>
૨. બે માંથી વિશાળ કયું છે?	મહાસાગર	<input checked="" type="checkbox"/>	સાગર	<input type="checkbox"/>
૩. બે માંથી જૂનું કયું છે?	રેડિયો	<input checked="" type="checkbox"/>	કમ્પ્યુટર	<input type="checkbox"/>
૪. બે માંથી મોટું કયું છે?	હોડી	<input type="checkbox"/>	વાહન	<input checked="" type="checkbox"/>

પ્ર-૫ (બ) ટ્રાફિક સિગ્નલ ઢોરી તેમાં રંગ પૂરો.

(૦૪)





વેદાંત વિદ્યા વિહાર

ઇસનપુર, અમદાવાદ.

ધોરણ : ૨	યુનિટ ટેસ્ટ : ૪	વિષય : ગુજરાતી	તારીખ : ૦૧-૦૨-૨૦૨૦	માર્ક : ૪૦
----------	-----------------	----------------	--------------------	------------

પ્ર-૧(અ) નીચે આપેલા પ્રશ્નોનાં ઉત્તર લખો.

(૦૫)

૧. ટપાલી શું વહેંચે છે?

જ. ટપાલી ટપાલ વહેંચી દે.

૨. બિલ્લી ક્યાં જવા તૈયાર થઈ?

જ. બિલ્લી દિલ્લી જવા તૈયાર થઈ.

૩. દરજીભાઈ કાપડ કાપી શું બનાવશે?

જ. દરજીભાઈ કાપડ કાપી કોટ બનાવશે.

૪. ખેતર ખેડીને અનાજ કોણ પકવે છે?

જ. ખેતર ખેડીને અનાજ ચીકૂલ પકવે છે.

૫. વાવણી કરતાં પહેલાં શું કરવું પડે?

જ. વાવણી કરતાં પહેલાં ખેતર ખોદવું પડે.

પ્ર-૧(બ) ખાલી જગ્યા પૂરો.

(૦૫)

૧. ધોબી કપડાં ધુએ અને દરજી પણ કરે.

૨. ચાકડો ને લાકડી લઈને આવ્યાં કુંભાર ભાઈ.

૩. સોય, ટેપ ને સંચો લઈને આવ્યાં દરજીભાઈ.

૪. ઈંટ-માટીથી ચણીચણીને ચીકૂલ બનાવે છે.

૫. સોમાભાઈ ભાલુ ખાઈને આરામ કરવા સૂતા.

પ્ર-૨(અ) ખરાં - ખોટાં ની નિશાની કરો.

(૦૫)

૧. ફળિયા બળદ ખોવાયો હતો.

૨. સોમાભાઈની દીકરીનું નામ મેઘના હતું.

૩. સૌની થાળીમાં રેવા બહેને રોટલો મૂક્યો.


૪. હર્ષવર્ધન મોબાઈલનાં બજારનો વીડિયો ઊતારતો હતો.


૫. શકરભાઈની શાકભાજીની દુકાન હતી.


X
X
✓
X
X


પ્ર-૨(બ)


નીચેના યોગ્ય જોડકા જોડો.

૧.  લાકડામાંથી ખુરશી - ટેબલ બનાવે

૨.  દરજી કપડાં સીવે

૩.  મોચી ચામડામાંથી બુટ - ચંપલ બનાવે

૪.  કપડાં ધુએ અને ઇસ્ત્રી પણ કરે

૫.  માટીનો ઘડો અને કોડિયા બનાવે

પ્ર-૩(અ)


ટુકડા લેગાકરી વાક્ય બનાવો.

(૦૫)


૧. બજારનો વીડિયો આર્યન ઉતરતો હતો.
- જ. આર્યન બજારનો વીડિયો ઊતરતો હતો.
૨. દૂધ વેચવા હર્ષદભાઈ હાથી નીકળ્યા હતા.
- જ. હર્ષદભાઈ હાથી દૂધ વેચવા નીકળ્યા.
૩. બહુ ભાવે છે કાનાને માખણ
- જ. કાનાને માખણ બહુ ભાવે છે.
૪. બાજરીના તૈયાર થાય રોટલા
- જ. બાજરીના રોટલા તૈયાર થયા.
૫. ભેચે ભડે છે આકાશમાં પંખી
- જ. પંખી આકાશમાં ભેચે ભડે છે.

વસ્તુઓનાં નામ લખી તે કોણ વાપરે છે તે લખો.

(૦૫)




કરવલ/રુથાર



ચાકડો/નાકડો
કુલાચ



દરજી/રંચા



લીલુ/ચાલંબી
કડિયો.



કાલરડાંસરી/વાલંદ

પ્ર-૪(અ) બિલ્લી મસીને આવું કોણ કહે છે તે લખો.

(૦૫)

૧. ચંપલને પોલિશ પણ કરી છે.

મોચી

૨. બિલ્લીમાસી લાકડાંની ગાડી ગમી તો ખરીને ?

રુથાર

૩. સરખાં ઊભા રહો, સરખું માપ લેવા દો.

દરજી

૪. મારા ઘડાનું પાણી ખૂબ ઠંડુ થશે.

કુલાચ

૫. કપડાં ઘોવાઈ ગયાં છસી બાકી છે.

દોબી

પ્ર-૪(ક) ચિત્ર જોઈ કારીગરોનાં નામ લખો.


(૦૫)



દરજી




દોબી



વાલંદ

૪.



રુથાર



કડિયો



वेदांत विद्या विहार

छसनपुर, अमदावाड.

घोरणा : २	युनिट टेस्ट : ४	विषय : हिन्दी	तारीख : 03/02/2020	मार्क : ४0
-----------	-----------------	---------------	--------------------	------------

प्र-१. (अ) नीचेना शब्दो वांचो अने लभो.

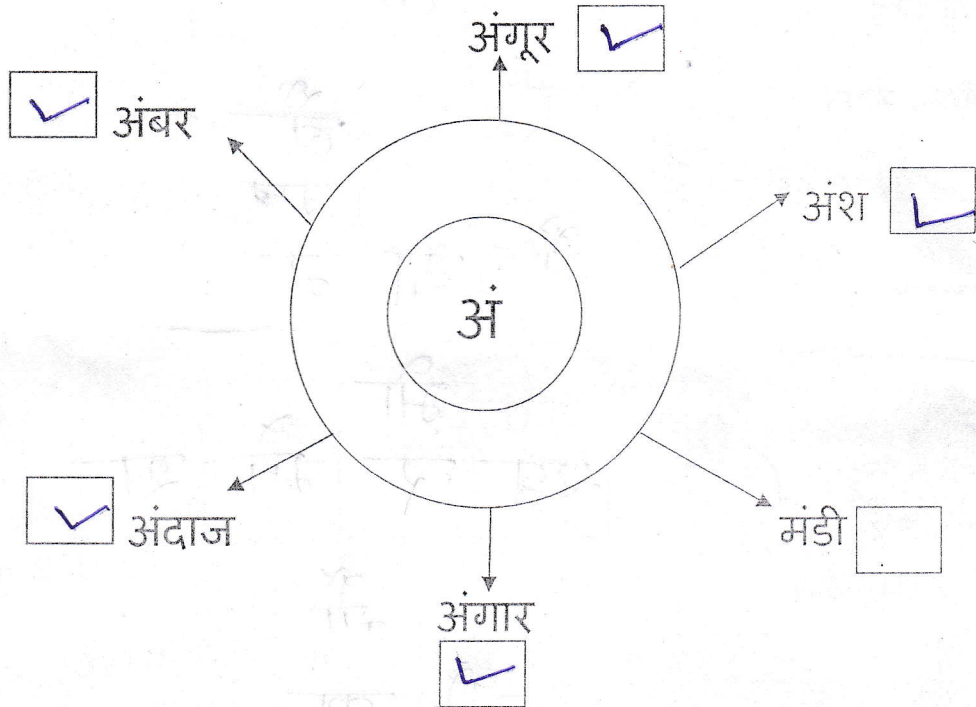
(04)

१. नमः नमः
२. नारंगी नारंगी
३. तिरंगा तिरंगा
४. औषध औषध
५. कौशिक कौशिक

६. अशोक अशोक
७. ओज ओज
८. मैया मैया
९. बसेरा बसेरा
१०. हमारे हमारे

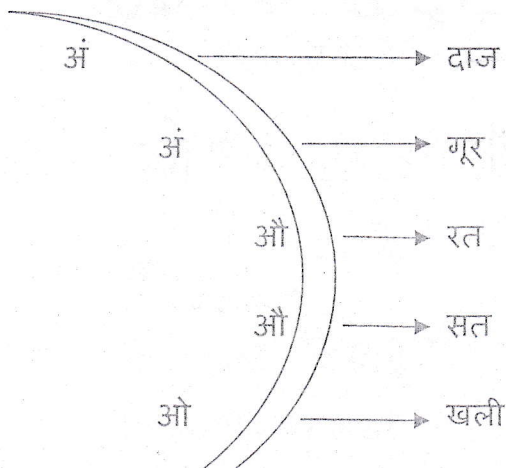
प्र-१. (ब) आपेला मूलाक्षरथी शब्द थतां शब्दने ✓ करो.

(04)








प्र-२. (अ) मूलाक्षरोने तीरनी दिशामां वांची शब्द लभो.

(04)



- अंदाज
- अंगूर
- औरत
- औसत
- औखली

प्र-२. (ब) चित्र ओलभी नाम लभो. [बंदर, खिलौना, खरगोश, दैनिक, करेला,]

१.  करेला ४.  खिलौना
२.  दैनिक ५.  बंदर
३.  खरगोश

प्र-३ (ख) चित्र ओलभी भांनां पूरो.

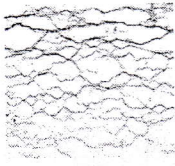
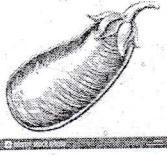
(०५)

१. मेज, जलेबी





मे		
ज	ले	बी

२. बैंगन, मैदान



		बै
		ंगन
मै	दा	न

३. मोर, खरगोश




	मो		
ख	र	मो	श

४. नौका, चौका



	नौ
नौ	का

५. मंदिर, बंदर



		मं
		दि
बं	द	र

(ब) भूटता अक्षर लपो.

(04)

१. तिरंगा - ति रं गा
२. अंगार - अं गार
३. हथौड़ा - ह थौं डा
४. मौलवी - मौ लवी
५. कटोरी - क टा री

प्र-४

(अ) डीसमांथी शब्द पसंद करी भाली जग्या पूरो.

(04)

[अंडा, पौधा, बैल, ठेरा, पैर]



१. मीता, जमीन पर पैर रख।

२. ठेरा बर्तन बनाता है।



३. मौसी पौधा लगाओ।



४. मुर्गी अंडा देती है।



५. भैया बैल पकड़।

प्र-४

(ब) वाक्य वांचो अने लपो.

(04)

१. चंदा आकाश में है।

चंदा आकाश में है।

२. अभिषेक अंगूर खाता है।

अभिषेक अंगूर खाता है।

३. नौकर काम करता है।

नौकर काम करता है।

४. मौसम बड़ा सुहाना है।

मौसम बड़ा सुहाना है।

५. मोहन घोड़े की सवारी कर।



વેદાંત વિદ્યા વિહાર
હસનપુર, અમદાવાદ.

ધોરણ : ૨	યુનિટ ટેસ્ટ : ૪	વિષય : ગણિત	તારીખ : ૨૯-૦૧-૨૦૨૦	માર્ક : ૪૦
----------	-----------------	-------------	--------------------	------------

પ્ર-૧(અ) ખાલી જગ્યા પૂરો. (08)

- ઓગષ્ટ પછી તરત સપ્ટેમ્બર મહિનો આવે.
- ૮૫ = ૮૦ + ૫
- અઠવાડિયાના દિવસો કેટલા? ૭
- ૫ + ૨ + ૫ = ૧૨
- ૧૬ + ૧૩ = ૨૯
- ૨૭ - ૨૦ = ૦૭
- જાન્યુઆરી મહિનામાં ૩૧ દિવસ હોય.
- અઠવાડિયાનો છેલ્લો વાર કયો? શુક્રવાર

પ્ર-૧(બ) ઊભો અને આડા સરવાળા કરો અને ખાલી સ્થાન પૂર્ણ કરો. (02)

(૭)	(૨)	(૮)
(૯)	(૪)	(૧૩)
(૧૬)	(૬)	(૨૨)

પ્ર-૨(અ) સરવાળો કરો. (04)

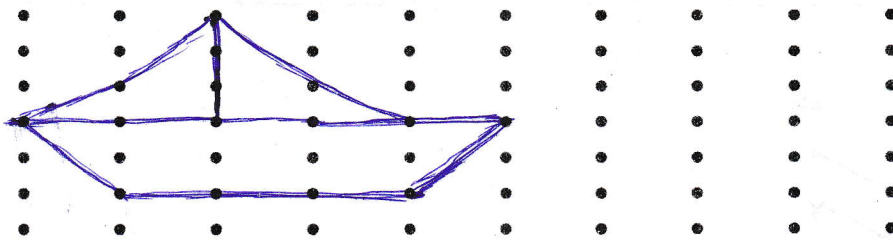
$\begin{array}{r} + ૮૩ \\ ૧૫ \\ \hline ૯૮ \end{array}$	$\begin{array}{r} + ૨૩ \\ ૩૨ \\ \hline ૫૫ \end{array}$	$\begin{array}{r} + ૩૬ \\ ૨૨ \\ \hline ૫૮ \end{array}$	$\begin{array}{r} + ૫૦ \\ ૧૦ \\ \hline ૬૦ \end{array}$
--	--	--	--

પ્ર-૨(બ) દાખલા ગણો. (02)

ઉમંગે એક મેચમાં ૩૬ રન કર્યા અને બીજી મેચમાં ૨૩ રન કર્યા તો તેણે કુલ કેટલા રન કર્યા?

૩૬ રન એક મેચમાં કર્યા
+ ૨૩ રન બીજી મેચમાં કર્યા.
૫૯ રન કર્યા.

પ્ર-૨(ક) નીચે આપેલા ડોટ ગ્રીડમાં લીટીઓ અને વળાંકોથી હોડીનું ચિત્ર બનાવો. (02)



પ્ર-૩(અ) બાદબાકી કરો. (04)

$\begin{array}{r} ૭૫ \\ - ૫૨ \\ \hline ૨૩ \end{array}$	$\begin{array}{r} ૬૦ \\ - ૪૦ \\ \hline ૨૦ \end{array}$	$\begin{array}{r} ૩૭ \\ - ૩૭ \\ \hline ૦૦ \end{array}$	$\begin{array}{r} ૯૪ \\ - ૬૧ \\ \hline ૩૩ \end{array}$
--	--	--	--

પ્ર-૩(બ) દાખલા ગણો.

(02)

૧. બબલી પાસે ૩૪ જાંબુ હતા. તેણીએ તેમાંથી ૧૪ જાંબુ ખાંધા. હવે બબલી પાસે કેટલા જાંબુ બાકી રહ્યા.

૩૪ જાંબુ બબલી પાસે હતા.
- ૧૪ જાંબુ ખાંધા.

૨૦ જાંબુ બબલી પાસે બાકી રહ્યા.

પ્ર-૪(અ) નીચે કોષ્ટકમાં એક કેન્ટીનમાં વેચાતી વસ્તુઓની કિંમતની વિગત આપેલ છે. તેના આધારે

નીચેના પ્રશ્નોનાં જવાબ આપો.

(04)

વસ્તુ	હડલી	દહીવડા	ઉત્તપમ	ચા	કોફી	બિસ્કિટ
રૂપિયા	૧૮	૨૦	૪૫	૮	૧૦	૧૫

૧. હડલી અને દહીવડાની કિંમત કેટલી થાય?

→ ૧૮ ₹ હડલી
+ ૨૦ ₹ દહીવડા
૩૮ ₹ કુલ કિંમત

૨. ઉત્તપમ અને દહીવડાની કિંમત કેટલી થાય?

→ ૪૫ ₹ ઉત્તપમ
+ ૨૦ ₹ દહીવડા
૬૫ ₹ કુલ કિંમત

૩. ચા અને કોફીની કિંમત કેટલી થાય?

→ ૮ ₹ ચા
+ ૧૦ ₹ કોફી
૧૮ ₹ કુલ કિંમત

૪. બિસ્કિટ કરતાં કોફીની કિંમત કેટલી ઓછી છે?

→ ૧૫ ₹ બિસ્કિટ
- ૧૦ ₹ કોફી
૦૫ ₹ ઓછા છે.

પ્ર-૪(બ) જોડકાં જોડો.

(02)

(અ) (બ)

૧. ૨૫ + ૧૪ ————— ૭૬
૨. ૮૨ - ૩૦ ————— ૩૯
૩. ૬૧ + ૧૫ ————— ૨૧
૪. ૪૯ - ૨૮ ————— ૫૨

પ્ર-૫(અ) વહી વાળા સરવાળા. (02)

$$\begin{array}{r} ૨ \\ ૫૨ \\ + \\ ૩૯ \\ \hline ૮૧ \end{array} \quad \begin{array}{r} ૨ \\ ૪૭ \\ + \\ ૩૬ \\ \hline ૮૩ \end{array}$$

પ્ર-૫(બ) દશકા વાળી બાદબાકી. (02)

$$\begin{array}{r} ૧૧૦ \\ - ૪૦ \\ \hline ૭૦ \end{array} \quad \begin{array}{r} ૪૧૦ \\ - ૪૫ \\ \hline ૩૬૫ \end{array}$$

પ્ર-૫(ક) જોડકાં જોડો.

(02)

વારના નામ ક્રમ

૧. મંગળવાર ————— ૭
૨. શુક્રવાર ————— ૪
૩. રવિવાર ————— ૨
૪. ગુરુવાર ————— ૫

પ્ર-૫(ડ) ક્યાં માસમાં કેટલા દિવસો આવે તે લખો. (02)

પ્ર-૫(ઘ) ખાલી ખાના પૂર્ણ કરો. (02)

૧. ફેબ્રુઆરી ૨૮ ૩. એપ્રિલ ૩૦

$$\begin{array}{r} ૨૭ \\ + \\ ૨૭ \\ \hline ૫૪ \end{array} \quad \begin{array}{r} ૧૩ \\ + \\ ૧૩ \\ \hline ૨૬ \end{array}$$