



वेदांत विद्या विहार

ઇસનપુર, અમદાવાદ.

T.C

ધોરણ : ૪	યુનિટ ટેસ્ટ : ૪	વિષય : આસપાસ	તારીખ : ૨૯-૦૧-૨૦૨૦	માર્ક : ૪૦
----------	-----------------	--------------	--------------------	------------

- પ્ર-૧ (અ) - સાચો વિકલ્પ પસંદ કરી માં લખો. (૦૫)
- નીચેનામાંથી કયું પક્ષી ઘરમાં માળો બનાવે છે?
(અ) પોપટ (બ) ચકલી (ક) કાગડો (ડ) હોલો
 - તેજલને અમદાવાદમાં શું જોવાની ઈચ્છા હતી?
(અ) કાંકરીયા (બ) રિવરફ્રન્ટ (ક) સરખેજનો રોજો (ડ) સાયન્સ સિટી
 - વોટર પાર્કમાં શાનો વધુ બગાડ થાય છે?
(અ) અનાજ (બ) ભોજન (ક) જમીન (ડ) પાણી
 - નીચેનામાંથી કયો તહેવાર ભાઈ-બહેનના પ્રેમનો તહેવાર છે?
(અ) ઉત્તરાયણ (બ) રક્ષાબંધન (ક) દશેરા (ડ) દિવાળી
 - ઉત્તરાયણ શાનો તહેવાર છે?
(અ) ફટાકડાનો (બ) મીઠાઈનો (ક) પતંગનો (ડ) રંગોનો

- પ્ર-૧ (બ) - યોગ્ય શબ્દ વડે નીચેના દરેક વિધનમાં ખાલી જગ્યાઓ પૂરો. (૦૫)
- દરબુડો પક્ષી પાંદડા સીવીને માળો બનાવે છે.
 - ગામમાં તેજલને ઉનાળામાં પાણી ભરવા નહી એ જવું પડતું.
 - તેજલની માતાનાં માતા સગપનમાં તેના નાની થાય.
 - રોગચાળો ચાલતો હોય ત્યારે કેકાઈલું પાણી પીવું જોઈએ.
 - પંદરમી ઓગસ્ટ ને ૨૩મી તહેવાર તરીકે ઉજવવામાં આવે છે.

- પ્ર-૨ (અ) નીચેનાં વિધાનોમાંથી સાચાં વિધાનો સામે ✓ ની અને ખોટા વિધાનો સામે ✗ ની નિશાની કરો. (૦૫)
- ચકલી ઝાડની બખોલમાં માળો બાંધે છે.
 - મામાને ત્યાં લગ્ન હોવાથી તેજલ અમદાવાદ આવી હતી.
 - પપ્પાનાં મમ્મીને દાદી કહેવાય છે.
 - પાણી ભરવાનું માટલું કે વાસણ દરરોજ સાફ કરવું જોઈએ.
 - શાળામાં વિદ્યાર્થીનું આદર્શ નાગરિક તરીકેનું ઘડતર થાય છે.

- પ્ર-૨ (બ) - બંધ બેસતાં જોડકાં રચો. (૦૫)
- | | | |
|-------------------------|-------------|-------------|
| વિભાગ - 'અ' | ઉત્તર | વિભાગ - 'બ' |
| ૧. પપ્પાની બહેન (૧) | <u>ડાદા</u> | (અ) નાના |
| ૨. મમ્મીના બહેન (૨) | <u>માસી</u> | (બ) કાકા |
| ૩. મમ્મીના પપ્પા (૩) | <u>નાના</u> | (ક) મામા |
| ૪. પપ્પાના નાના ભાઈ (૪) | <u>કાકા</u> | (ડ) ફોફ |
| ૫. મમ્મીના ભાઈ (૫) | <u>મામા</u> | (ઈ) માસી |

- પ્ર-૩ (અ) - નીચેના તહેવારોનું તારીખ મુજબ અને તિથી મુજબ વર્ગીકરણ કરો. (૦૫)
- (ઉત્તરાયણ, બેસતું વર્ષ, પ્રજાસત્તાકદિન, ભાઈબીજ, દેવદિવાળી, ખ્રિસ્તીનુતન વર્ષ, હોળી-ધુળેટી, રક્ષાબંધન, સ્વાતંત્ર્યદિન, ગાંધી જયંતિ, જન્માષ્ટમી દિવાળી, નાતાલ)

- તારીખ મુજબના તહેવારો. ઉત્તરાયણ, પ્રજાસત્તાકદિન, ખ્રિસ્તીનુતનવર્ષ, સ્વાતંત્ર્યદિન, ગાંધી જયંતિ, નાતાલ.
- તિથી મુજબના તહેવારો. ભાઈબીજ, દેવદિવાળી, હોળી-ધુળેટી, રક્ષાબંધન, જન્માષ્ટમી, દિવાળી.

પ્ર-૨ (બ) - માગ્યા મુજબના દરેકનાં બે નામ લખો.

(૦૫)

૧. જીવાત અને દાણા ચણતાં પક્ષીઓ ૧. કાલર ૨. ચણી

૨. નહોરવાળા પંજા ધરાવતા પક્ષીઓ ૧. લાજ ૨. સમડી

પ્ર-૪ નીચેનાં પ્રશ્નોનાં ઉત્તર એક - બે વક્યોમાં આપો.

(૦૬)

૧. પક્ષીઓ માળા કેમ બનાવે છે?

૪. પક્ષીઓ માળા બનાવવા માટે લગભગ દરેક પીણાના ટંકા, મરુદમાર, અને બચાવની સમામાર માળા બનાવે છે.

૨. તેજલના મામાની ગલીમાં સવારે કેટલા વાગે પાણી આવે છે?

૪. તેમજની મામાની ગલીમાં સવારે સાઠ વાગે પાણી આવે છે.

૩. અંજુએ પાણી ચોખ્ખું કરવાની કઈ યુક્તિ કરી?

૪. સાંજુએ પાણી ચોખ્ખું કરવા માટે પાણીને ટિક્કીને પછી તેને ઠંડું પાણી ઉપયોગમાં લેવું તે યુક્તિ વિચારી

૪. ગુજરાતમાં વોટરપાર્ક ક્યાં આવેલાં છે?

૪. ગુજરાતમાં વોટરપાર્ક મહેસાણા નજીક સુવર્ણવ્યાધિ વોટરપાર્ક છે. અને મહુડી નજીક સાંડું વોટરપાર્ક આવેલાં છે.

૫. ઉત્તરાચલ બીજા કયા નામથી ઓળખાય છે?

૪. ઉત્તરાચલ પુર્વે મહાસંહીતના નામથી ઓળખવામાં આવે છે.

૬. બાળકોએ ઉજાણીમાં શું શું કર્યું?

૪. બાળકોએ ઉજાણીમાં માત-માનનું ભોજન કર્યું જેમાં સરખી ગાના ગાયો અને ગાયોનો કચું

પ્ર-૫ નીચેના પ્રશ્નોનાં ઉત્તર ત્રણ-ચાર વક્યોમાં લખો.

(૦૪)

૧. ગંદ પાણી આપણાં શરીરને કેવી રીતે નુકસાન કરે છે?

ગંદ પાણી આપણા શરીરને સારી રીતે નુકસાન કરે છે. ગંદ પાણીમાં કબજા, માથું, સોજાવ જેવાં રોગો હોય છે. અને સાવ પાણી પીવાથી કોલેરા, ટાઇફોઇડ, મેરુડી અને ગાંઠ-ગાંઠ જેવા રોગો થાય છે. અને આમ સારા રોગો પણ પામી શકાય છે. આથી ગંદ પાણી આપણા શરીરને નુકસાન કરે છે.








૨. મધ્યાહન ભોજન એટલે શું? તે કોના દ્વારા આપવામાં આવે છે?











મધ્યાહન ભોજન સરખી સરકારી પ્રાથમિક શાળાઓમાં આપવામાં લાગેલાં ભોજનને મધ્યાહન ભોજન કહે છે. અને તે સરકાર દ્વારા દરેક પ્રાથમિક સરકારી શાળાઓમાં વિના મૂલ્યે આપવામાં આવે છે.








વેદાંત વિદ્યા વિહાર
ઇસનપુર, અમદાવાદ.






ધોરણ : ૪	યુનિટ ટેસ્ટ : ૪	વિષય : કમ્પ્યુટર	તારીખ : ૨૮-૦૧-૨૦૨૦	માર્ક : ૪૦
----------	-----------------	------------------	--------------------	------------

૧. નીચે આપેલી ખાલી જગ્યાના જવાબ વિકલ્પમાંથી પસંદ કરો. (૨૦)
- _____ દોરવા માટે line ટૂલનો ઉપયોગ થાય છે. (curve / line)
 - આખું ચિત્ર કે ચિત્રના ભાગ ભૂસવા માટે Eraser નો ઉપયોગ થાય છે. (Eraser / Brush)
 -  ને Print કહે છે. (Print બટન / Help બટન)
 - સ્ક્રીન પરના નાનકડા એરોને માઉસ પોઇન્ટર કહે છે. (માઉસ / માઉસ પોઇન્ટર)
 - ડેસ્કટોપ પર જોવા મળતા નાના ચિત્રોને આઇકન કહે છે. (ગ્રાફિક્સ / આઇકન)
 - તમે સ્પર્શી શકો તેવા કમ્પ્યુટર ના ભાગને હાર્ડવેર કહે છે. (હાર્ડવેર / સોફ્ટવેર)
 - માઉસ બટનને તમે દબાવીને છોડી છો એ ક્રિયાને ક્લિકિંગ કહે છે. (ક્લિકિંગ / ડ્રેગિંગ)
 - ચિત્ર ને મોટું કરવા માટે Magnifier ટૂલનો ઉપયોગ થાય છે. (Magnifier / Eraser)
 - ચિત્રને સેવ કરવા માટે save ટૂલનો ઉપયોગ થાય છે. (Open / Save)
 - આકારને oval કહે છે. (Oval / Circle)
 - છેલ્લી પ્રક્રિયા ઉલટાવવા માટે Undo ટૂલનો ઉપયોગ થાય છે. (Undo / Redo)
 - આખું ચિત્ર કે ચિત્રનો ભાગ ભૂસવા માટે Eraser નો ઉપયોગ થાય છે. (Eraser / Brush)
 -  દોરવા માટે Triangle ટૂલનો ઉપયોગ થાય છે. (Rounded Rectangle / Triangle)
 -  દોરવા માટે Rounded rectangle ટૂલનો ઉપયોગ થાય છે. (Rounded Rectangle / Diamond)
 -  દોરવા માટે Rectangle ટૂલનો ઉપયોગ થાય છે. (Oval / Rectangle)
 - વેઇન્ડો વિન્ડો બંધ કરવા માટે ટાઇટલ બાર પર close બટન નો ઉપયોગ થાય છે. (Close/ Minimize)
 -  દોરવા માટે curve ટૂલનો ઉપયોગ થાય છે. (Curve / Line)
 - અન્ડો ટૂલની પ્રક્રિયા ઉલટાવવા માટે Redo ટૂલનો ઉપયોગ થાય છે. (Undo / Redo)
 -  દોરવા માટે Heart ટૂલનો ઉપયોગ થાય છે. (Heart / Polygon)
 -  આકારને Five point star કહે છે. (Polygon / Five Point Star)

૨. નીચેના ટૂલ્સના નામ લખો. (૧૦)
-  save (સેવ)
 -  Undo (અન્ડો)
 -  Redo (રિડો)
 -  close (ક્લોઝ)
 -  copy (કોપી)
 -  Paste (પેસ્ટ)
 -  Pencil (પેન્સિલ)
 -  Eraser (એરિસર)
 -  minimize (મિનિમાઇઝ)
 -  Restore Down (રિસ્ટોર ડાઉન)

‘અ’	ઉત્તર	‘બ’
(1) 	(d) Curve	(a) Triangle
(2) 	(c) Polygon	(b) Diamond
(3) 	(e) Rectangle	(c) Polygon
(4) 	(a) Triangle	(d) Curve
(5) 	(b) Diamond	(e) Rectangle

૪. પેઈન્ટ વિન્ડોઝના ભાગના નામ આપો એક એક ઉપયોગ.

૧.  save (સેવ) કોઈ પણ કાર્યને સંચય કરવા
૨.  minimize (મિનિમાઇઝ) કોઈ પણ કાર્યને સંચય કરવા
૩.  close (ક્લોઝ) કોઈ પણ વિન્ડો ને બંધ કરવા
૪.  Eraser (ઇરેસર) કોઈ ચિત્ર ને કે ચિત્રના ભાગ ને ભૂલવો
૫.  color picker (કલર પિકર) કોઈ પણ ચિત્ર માંથી કલર પસંદ કરી બીજા ચિત્ર માં ડ્રોવા.



વેદાંત વિદ્યા વિહાર
ઇસનપુર, અમદાવાદ.

ધોરણ : 4

યુનિટ ટેસ્ટ : 4

વિષય : અંગ્રેજી

તારીખ : 31/1/2020

માર્ક : 40

Q.1 Write the answer of the following questions.

(2 1/2)

(1) What sails on the sea?

(A) Ships sail on the sea.

(2) What do you use when it rains?

(A) we use umbrellas, raincoat, gumboots when it rains.

(3) Who was Sunu sunu?

(A) Sunu sunu was a snail.

(4) What fell on Funny Bunny?

(A) A nut fell on Funny Bunny.

(5) What was the goose called?

(A) The goose called Poosey Goosey.

Q.2 (A) Complete the words with a, e, i, o, u.

(05)

(1) F u n F a n (2) W a ll W e ll



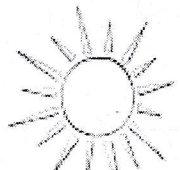


(3) L i St L a St (4) S i t S a t

(5) B i g B a g

Q.2 (B) Name the pictures using the words given in the brackets.

(05)

[sun, trees, fruits, animals, birds, clouds]

 <u>Fruits</u>	 <u>Birds</u>	 <u>sun</u>	 <u>clouds</u>	 <u>tree</u>

Q.3 (A) Write rhyming words.

(2 1/2)


(1) Dog fog , log (2) Play clay , slay


(3) Pit sit , nit (4) Crow crowd , crash


(5) Pump hump , dump , bump .
now , row .


Q.3 (B) Fill in the blanks using This or That.


(05)

(1)  This is a ball.

(2) That is a tree. 

(3) That is a kite. 

(4)  This is a pencil.

(5)  This is a rat.

Q.4 (A) Fill in the blanks with brackets.

(05)

[mews, rain, wise, hump, Woxy Foxy]

(1) The Chimpanzee is a wise animal.

(2) The camel has a hump.

(3) A cat mews.

(4) The rain is raining all around.

(5) Woxy Foxy killed all the animals.

Q.4 (B) Rearrange the words to form of correct sentences.

(02)

(1) here lives the king

The king lives here.

(2) fall is the sky going to

The sky is going to fall.

(3) the king must tell i

I must tell the king

(4) blow kites

kites blow.

Q.4 (C) Write the opposite words.

(03)

(1) here × there

(2) start × finish

(3) long × short

(4) bad × good

(5) big × small

(6) come × go

Q.4 (D) Write the sounds of animals and birds.

(05)

[moos, brays, hoots, chirps, clucks, caws]

(1) A cow moos

(2) an owl hoots

(3) A crow caws

(4) A donkey brays



वेदांत विद्या विहार

ઈસનપુર, અમદાવાદ.

T.C.

ધોરણ : ૪	યુનિટ ટેસ્ટ : ૪	વિષય : સામાન્ય જ્ઞાન	તારીખ : ૨૭-૦૧-૨૦૨૦	માર્ક : ૪૦
----------	-----------------	----------------------	--------------------	------------

પ્ર-૧ (અ) નીચે આપેલા ઉખાણા વાંચી તેમાં ઉકેલ ખાલી જગ્યામાં લખો. (૦૪)

૧. હું એક એવું નગર છું જેમાં ઘણા ચોર રહે છે. તે ચોરોમાં મુખ કાળાં છે. એમની પૂછડી પકડીને ખેંચવાથી તરત પ્રકાશ થઈ જાય છે.

માચીસ

૨. હું નથી ચોર કે નથી ડાકુ, હું ક્યાંયની રાણી પણ નથી. હું બત્રીશ સિપાઈઓથી ઘેરાયલી રહું છું. મારૂ તન અને મન પાણીથી ભરેલા રહે છે.

શુભ

૩. તમે અમને પથ્થરોનું જંગલ કહી શકો છો. અમારૂ મન વિશાળ છે. અમારા પર ઘણા વૃક્ષ ઊગે છે. અમે નદીઓ અને ઝરણાંનું ઉદગમસ્થાન છીએ.

પર્વત

૪. અમે બને ખાસ મિત્રો છીએ. અમે અનોખા કામો કરતાં રહીએ છીએ. અમારા દરેકની સાથે પાંચ-પાંચ સેવક છે. પરંતુ તેઓ પરસ્પર ક્યારેય વાત કરતાં નથી.

બે દાથ

પ્ર-૧ (બ) નીચે આપેલી પરંપરાગત વાનગીઓ સામે રાજ્યનું નામ લખો. (૦૪)

૧. થેપલા, ઢોકળા, ખાંડવી

ગુજરાત

૨. રસગુલ્લા, માછલીની કાઢી

પશ્ચિમ બંગાળ

૩. સરસવનું શાક, મકાઈની રોટલી, લસી


પંજાબ

૪. મલાઈ ઘેવર


રાજસ્થાન

પ્ર-૨ (અ) નીચે કેટલાક ક્રાંતિકારી ઓના ચિત્રો આપેલા છે ચિત્ર ઓળખી ક્રાંતિકારીનું નામ બોક્સમાંથી પસંદ કરી લખો. (૦૪)

[રાજગુરુ, વીર સાવરકર, ચંદ્રશેખર આઝાદ, શહીદ ભગતસિંહ]



વીર સાવરકર



રાજગુરુ



ચંદ્રશેખર આઝાદ



શહીદ ભગતસિંહ

પ્ર-૨ (બ) નીચેના જોડકા જોડો.

(૦૪)

અ	જવાબ	બ
૧. પંડિત શિવકુમારશર્મા	સરોદ	
૨. પંડિત રવિશંકર	સારંગી	
૩. ગુલામ સબિર ખાન	સંતુર	
૪. અમઝદ અલી ખાન	સિતાર	

પ્ર-૩ (અ) નીચે આપેલા મસાલાનો એક-એક ઉપયોગ લખો.

(૦૫)


૧. હળદર હળદર રસોઈમાં નાખવાથી રંગ ખીળી આવે છે. હળદરના ઘાગા પદાર્થો ઉપયોગ છે. હળદર વાગ્યા પછી સોજો આવ્યો થાય તો લગાવવાથી રાઈત રહે છે. ઉદરરસ, શરદી જેવી લિપારીમાં પણ હળદરનો ઉપયોગ થાય છે.
૨. એલચી ઘણાચી મીઠાઈમાં નાખવામાં આવે છે તેનાથી મીઠાઈમાં સ્વાદ અને સુગંધ વધે છે.
૩. જાયફળ મચ્છુનો ઉપયોગ ખેટના દુખાવા માટે થાય છે. તે મીઠાઈ જેવી કે દૂધની લગાવટ દૂધપાક, ખીર વગેરેમાં થાય છે.
૪. લાલમરચું તે ખોરાકમાં તીખાશ લાવવા માટે વપરાય છે. અને તેનાથી રસોઈનો રંગ પણ લાલ આવે છે.
૫. હિંગ હિંગનો ઉપયોગથી ખેટમાં અપચો વતો નથી. ખેટના દુખાવામાં હિંગ વપરવાથી મટી ગ્રય છે.

પ્ર-૩ (બ) નીચે કેટલાક પ્રતિકોના ચિત્રો આપેલા છે. દરેક ચિત્ર ઓડખી પ્રતિકોનું નામ બોક્સમાંથી પસંદ કરી ખાલી જગ્યામાં લખો.


(૦૫)



રેડક્રોસ



દૂરદર્શન



ઓલિમ્પિક રમતોત્સવ



ધૂમ્રપાન મનાઈ



શાંતિ

- ૪ (અ) નીચે આપેલાં દેશના વિવિધ રાજ્યોના લોકોના પારંપરિક પહેરવેશના ચિત્રો આપેલા છે ચિત્રમાં રાજ્યોની જોડી આપેલી છે તે રાજ્યનું નામ બોક્સમાંથી પસંદ કરી ખાલી જગ્યામાં લખો. (૦૪)
- (મહારાષ્ટ્ર, અરુણાચલ પ્રદેશ, ગુજરાત, હરિયાણા)







ગુજરાત

હરિયાણા

અરુણાચલ પ્રદેશ

મહારાષ્ટ્ર

- પ્ર-૪ (બ) અહીં કેટલીક અગત્યની ટ્રાફિક (સંકેતા) ના ચિત્રો આપેલા છે. દરેક ચિત્ર ઓળખી ટ્રાફિક સંકેતનું નામ બોક્સ માંથી પસંદ કરી ખાલી બોક્સમાં નામ લખો. (૦૫)
- (આગળ જવાની મનાઈ, પ્રવેશ બંધ, પાર્કિંગની મનાઈ, ઓવરટેકની મનાઈ, આગળ સાંકડો પુલ)



પાર્કિંગની મનાઈ

આગળ સાંકડો પુલ

પ્રવેશ બંધ

ઓવરટેકની મનાઈ


ધોલવાની મનાઈ / આગળ જવાની મનાઈ

- પ્ર-૫ નીચે આપેલી દરેક વસ્તુ જ્યાં રાખી શકાય તેની સાથે યોગ્ય રીતે જોડો. (૦૫)


'અ'

'બ'


૧.




૨.



૩.



૪.



૫.





वेदंत विद्या विहार
ઇસનપુર, અમદાવાદ.

ધોરણ : ૪	યુનિટ ટેસ્ટ : ૪	વિષય : ગુજરાતી	તારીખ : ૦૩-૦૨-૨૦૨૦	માર્ક : ૪૦
----------	-----------------	----------------	--------------------	------------

પ્ર-૧ (અ) - આપેલા વિકલ્પોમાંથી સાચો વિકલ્પ શોધી માં લખો. (૦૪)

૧. છઠ્ઠો મૂરખનો સરદાર કોણ હતો?
(અ) અકબર (બ) બિરબલ (ક) દરબારી ૨૫
૨. ગુસ્સે થયેલો વેપારી ફકીરને કોની પાસે લઈ ગયો?
(અ) ગુરુપાસે (બ) ન્યાયાધીશ (ક) રાજા પાસે ૪
૩. નરેન્દ્ર કોનો દીકરો હતો?
(અ) દત્તાબાબુનો (બ) કરમચંદનો (ક) વિકલનાથનો ૨૫
૪. કસ્તુરબા સ્વભાવે કેવાં હતાં?
(અ) ટેકીલા (બ) ધર્મપરાયણ (ક) ટેકીલા અને ધર્મપરાયણ ૪

પ્ર-૧ (બ) - નીચેના પ્રશ્નોનાં ઉત્તર એક એક વાક્યમાં લખો. [ગમે તે ચાર] (૦૪)

૧. કસ્તુરબાનો જન્મ ક્યાં અને ક્યારે થયો હતો?
૪. કસ્તુરબાનો જન્મ પૌરબંદરમાં અને ૧૯૩૯ નાં એપ્રિલ માસમાં થયો હતો.
૨. વેપારી એ ફકીર ને શું પૂછ્યું?
૪. વેપારી એ ફકીર ને પૂછ્યું તમે આવીને ખસાર થતાં માત્રુ ગિરે મેયું છો.
૩. દાદાજી એ નરેન્દ્રને કોનો ડર બતાવ્યો?
૪. દાદાજીએ નરેન્દ્રને આડ પર રહેતા અજીબની ડર બતાવી.
૪. કવિનો હાથ ક્યાં પહોંચતો નથી?
૪. કવિની હાથ આંખોની દીક ઉપરની રીય સુધી પહોંચતો નથી.
૫. બાળકોને પત્ર કોણે લખ્યો છે?
૪. બાળકોને પત્ર લેખનાં ગિરક અશોકભાઈએ લખ્યો છે.

પ્ર-૧ (ક) - પ્રશ્નોનાં ઉત્તર ત્રણ - ચાર વાક્યમાં લખો [ગમે તે ત્રણ] (૦૬)

૧. આપણી આંખો કઈ દશ દિશાઓ જોઈ શકે છે?
૪. આપણી આંખો નીચે મુજબ દશ દિશાઓ જોઈ શકે છે.
ઉત્તર, દક્ષિણ, પૂર્વ, પશ્ચિમ, દક્ષિણ, વાયવ્ય, નૌદિવ્ય, અગ્નિ
અને દિશા અને આકાશ.
૨. બિરબલ કોણ હતો? તે શેના માટે જાણીતો હતો?
૪. બિરબલ એ અકબર નાં દરબાર ની એક પ્રધાન હતો.
તે પોતાની વ્યુદ્ધિ સાતુર્ય અને હાજર જવાબી પણા ને
લીધે જાણીતો હતો. તો પૂણ સતુર અને હીશિગાર હતો.

૩. કસ્તૂરબાને મળવા માટે આવેલી એક બહેને બાપુજીને શું પૂછ્યું? બાપુજીએ તેનો શો ઉત્તર આપ્યો?

૪. કસ્તૂરબા મરીલી ગયા હતા. અને તે સવારની ગાડીમાં
યાદી રખાવવાનાં હતા. તેમને મળવા રોકાયેલા બંને બાપુને
પૂછ્યું. બા સવારની ગાડીમાં ન આવ્યા, તો સાંજની ગાડીમાં આવશે?
તો બાપુએ કહ્યું બા પેસાવાળા નાં હશે તો આવશે અને ઠરીલીના બા હશે તો
૪. નરેન્દ્ર કેળાની વાડીમાં શા માટે ગયો? ત્યાં શું થયું? સવારની ગાડી મા આવશ.

૪. નરેન્દ્રની માતાએ નરેન્દ્રને હનુમાનજી વિષેની વાત કહી અને કહ્યું
હનુમાનજીને ક્રોધ બહુ વાપે તેની લી ક્રોધની વાડીમાં હનુમાનજીને મળવા
માટે ગયા. ત્યાં સવારની સાંજ પડી છતાં હનુમાનજી આવ્યા નહીં
અને તેમનાં માતા તેમને બોલાવા રવાણા.

પ્ર-૨ (અ) - નીચેના પ્રશ્નોનો સવિસ્તાર જવાબ લખો. [તમે તે એક] (03)

૧. પત્ર લખતી વખતે ધ્યાન માં રાખવાની બાબતો જણાવો.

૪. પત્ર લખતી વખતે ધ્યાનમાં રાખવાની બાબતો.
લખાણનાં બધાજ અક્ષર મરોડદાર અને વ્યવસ્થિત લખેલા હોવા જોઈએ.
લખાણમાં પોતાના વિચારો સ્પષ્ટ લખેલા હોવા જોઈએ. હોકાક અને
બોધપૂર્ણ ભાષી હોવી જોઈએ નહિ. સંબંધિત વ્યવસ્થિત કરેલ વીધું જોઈએ.

૨. આશ્રમમાં મજૂરો કામ કરવાની આનાકાની શા માટે કરવા લાગ્યા?

૪. આશ્રમમાં કામ કરતાં મજૂરો આશ્રમની બાજુનાં એક મકાનમાં રહેતા હતાં
પણ એક દિવસ ત્યાં ચોર આવ્યા ને મજૂરોને મારી કે કાંઈ હાથમાં આવ્યું
તે લઈને ભાગી ગયા. આ ઘટના જો કરી જઈ મજૂરોએ આશ્રમમાં
કામ કરવાની આનાકાની કરવા લાગ્યા.

પ્ર-૨ (બ) - કાવ્ય પંક્તિ પૂર્ણ કરો. (03)

હું તો પૂછું કે મોરલાની પીંછીમાં રંગ-રંગવાળી આ રીલડી કીલો
આ રીલડી કીલો કડી?

વળી પૂછું કે મીંદીની માંજરી-શી આંખમાં
અકચકલી કીકીઓ કોણે મઠી?

પ્ર-૨ (ક) - ખાલી જગ્યા પૂરો. (04)

૧. બિરબલે કાદવ માં પડેલા માણસને તેની ચોરલા પકડીને ઉભો કર્યો.

૨. ફકીર વનબગડા માંથી પસાર થતા હતાં.

૩. આલ દૂર જ્યાં જમીનને અડતું લાગે છે તે કિલિજ કહેવાય.

૪. હનુમાનદાદાને કેળાં બહુ ભાવે.

પ્ર-૨ (ડ) નીચે આપેલા વિધાનમાંથી ખરાની સામે ✓ અને ખોટાની સામે ✗ ની નિશાની કરો. (03)

૧. દર્શિચિ નરેન્દ્રનાં ગુરુ હતાં.
૨. છઠ્ઠો મૂરખનો સરદાર બિરબલ હતો.
૩. ફકીરે વેપારીનું ઊંટ જોયું હતું.

3 (અ) નીચે આપેલા કોઈપણ એક વિષય પર આઠ-દસ વાક્યો લખો.

(03)

૧. નરેન્દ્ર

૨. કસ્તુરબા

પ્ર-૩ (બ) સમાનાર્થી શબ્દો લખો.

૧. હવા - પવન

૨. દેહ - તન, શરીર, કાયા

૩. કેડી - સાંકડી રસ્તી

૪. સાદ - અવાજ

પ્ર-૩ (ક) વિરોધી શબ્દો લખો.

૧. શાંતિ x અશાંતિ

૨. જવાબદાર x અજવાબદાર

૩. નવું x જૂનું

૪. અધરું x સડેલું

પ્ર-૩ (ડ) જોડણી સુધારો.

૧. કીનારો - કિનારી

૨. સ્મીત - સ્મિત

૩. શક્તી - શક્તિ

૪. હરીજન - હરિજન

પ્ર-૩ (ઘ) રૂઢિપ્રયોગનો અર્થ આપી વાક્યમાં પ્રયોગ કરો.

૧. મોખરે રહેવું :- આગળ રહેવું

વાક્ય આગાહીની લસતમાં કસ્તુરબા ગાંધીજી મોખરી હતા.

૨. મૂરખ નાં સરદાર હોવું :- ભારૂં મૂરખ હોવું

વાક્ય હીરાની વાંચી વાળાં માણસ મૂરખનો સરદાર હતો.

પ્ર-૩ (ઙ) નીચેના શબ્દ સમૂહો માટે એક - એક શબ્દ લખો.

૧. નામ અને રહેઠાણ - હક્કું, સરનામું

૨. આલને જ્યાં ધરતી અડે છે તે - શિલિજ

(02)








वेदंत विद्या विहार
ईसनपुर, अमदावाड.

घोरण : ४	युनिट टेस्ट : ४	विषय : हिन्दी	तारीख : ०१/०२/२०२०	मार्क : ४०
----------	-----------------	---------------	--------------------	------------

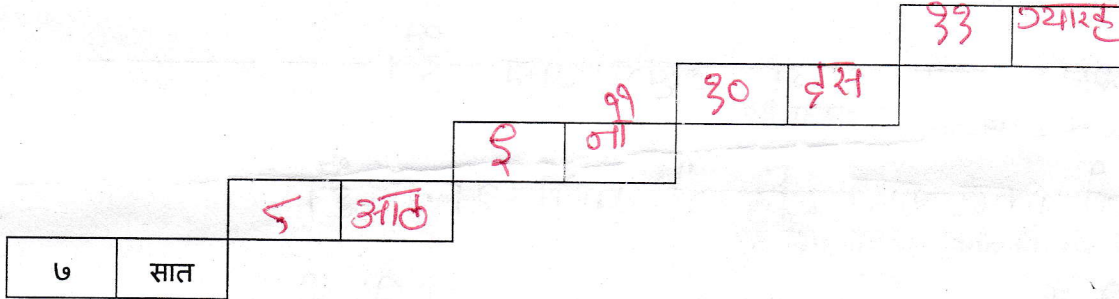
प्र-१(अ) नीचे दिए गए अंको को शब्द में लिखिए। (03)

- (1) ९ - नौ (2) १४ - चौर (3) १० - दस
(4) १२ - बारह (5) ६ - छः (6) १८ - अठारह

प्र-१(ब) चित्र के नीचे उसका सही नाम लिखिए। (05)

1.  इंडिया 2.  खरगोश
3.  काछुआ 5.  फूकगोषी 6.  त्रिशूल

प्र-१(क) सीढ़ी में क्रमिक रूप से आने वाला अंक लिखिए। (02)



प्र-२(अ) खाली जगह भरकर अपना परिचय दीजिए। (04)

- मेरा नाम _____ है।
- मैं _____ कक्षा में पढ़ता हूँ / पढ़ती हूँ।
- मैं अहमदाबाद नामक शहर में रहता हूँ / रहती हूँ।
- मेरी माँ का नाम _____ है।
- मेरे पिता का नाम _____ है।
- मेरी बहन का नाम _____ है।

प्र-२(ब) वचन बदलिए। (02)

1. लड़का - लड़की 2. तोता - तोती
3. गमला - गमकी 4. फल - फलक

प्र-२(क) लिंग बदलिए। (02)

1. राजा - रानी 2. लड़का - लड़की
3. चाचा - चाची 4. बच्चा - बच्ची

प्र-3(अ) चित्र देख के प्रश्नों के उत्तर लिखो।

(03)

1.



1. यह कौन है?

→ यह बच्चा है।

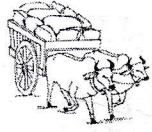
2.



2. यह क्या है?

→ यह सड़क है।

3.



1. यह कौन है?

→ यह बैलगाड़ी है।

प्र-3(ब) नीचे दिए गए वाक्य सुंदर अक्षरों में लिखिए।

(04)

1. मैं विद्यार्थी हूँ। → मैं विद्यार्थी हूँ।
2. मेरे दोस्त का नाम हिरन है। → मेरे दोस्त का नाम हिरन है।
3. मोर नाच रहा है। → मोर नाच रहा है।
4. हाथी की पूँछ छोटी होती है। → हाथी की पूँछ छोटी होती है।

प्र-3(क) निम्नलिखित प्रश्नों के उत्तर लिखिए।

(03)

1. आपके शहर का नाम क्या है?
→ हमारे शहर का नाम उदुमपूर है।
2. नहाने के लिए हाथी सूँड में क्या भरता है?
→ नहाने के लिए हाथी सूँड में पानी भरता है।
3. हाथी क्या खा कर किसीको बताता नहीं है?
→ हाथी कोले खा कर किसीको बताता नहीं है।

प्र-4(अ) खाली जगह भरिए। [रंभाती, सूँड, गा रही है, आप, खेत, बिल]

(06)

1. हाथी अपनी सूँड हिलाता है।
2. गाय रंभाती है।
3. राधा गा रही है।
4. किसान खेत में काम करता है।
5. चूहा बिल में रहता है।
6. आप डॉक्टर हैं।

प्र-4(ब) काव्य पंक्ति पूर्ण कीजिए।

(04)

जब पानी में जाता हाथा,
भर-भर सूँड भरता हाथा,
कितने कोले खाता हाथा,
यह तो नदी बताता हाथा।

बताता हाथी।